

QUIZIZZ

B_ΓΥΜΝΑΣΙΟΥ_ΓΕΩΜΕΤΡΙΑ_ΠΥΘΑΓΟΡΕΙΟ ΘΕΩΡΗΜΑ

5 Questions

NAME : _____

CLASS : _____

DATE : _____

1.



Η πλευρά x ισούται με:

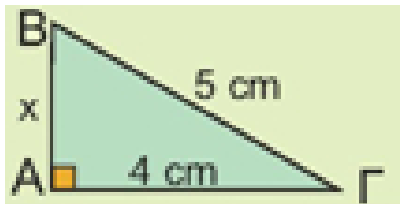
a) $x = \sqrt{14}$

b) $x = 10^2$

c) $x = 10$

d) $x = \sqrt{10}$

2.



Η πλευρά x ισούται με:

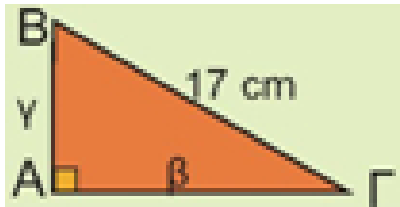
a) $x = \sqrt{9}$

b) $x = 9$

c) $x = \pm 3$

d) $x = \sqrt{41}$

3.



Αν γνωρίζετε ότι $\beta = \gamma$, τότε:

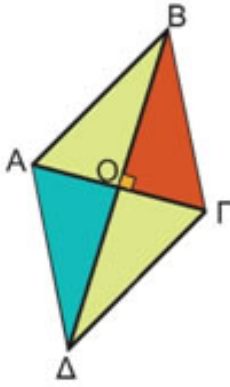
a) $\beta = \gamma = 8,5$

b) $\beta = \gamma = \sqrt{17}$

c) $\beta = \gamma = \sqrt{289}$

d) $\beta = \gamma = \sqrt{\frac{289}{2}}$

4.



Αν γνωρίζετε ότι ο ρόμβος ΑΒΓΔ έχει διαγώνιες 6cm και 8cm τότε η περίμετρός του Π είναι:

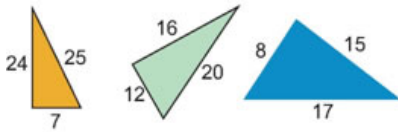
a) $\Pi = 25$

b) $\Pi = 4\sqrt{5}$

c) $\Pi = 20$

d) $\Pi = 12$

5.



Πόσα από τα τρίγωνα είναι ορθογώνια;

 a) Κανένα

 b) Ένα από τα τρία

 c) Δύο από τα τρία

 d) Και τα τρία

Answer Key

1. c

2. a

3. d

4. c

5. d