

QUIZIZZ

Γ_ΓΥΜΝΑΣΙΟΥ_ΓΕΩΜΕΤΡΙΑ_ΓΩΝΙΕΣ ορθογωνίου τριγώνου

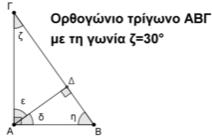
11 Questions

NAME : _____

CLASS : _____

DATE : _____

1.



Η γωνία η είναι ίση με:

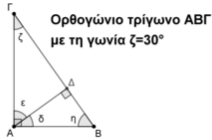
a) 30°

b) 60°

c) 50°

d) 70°

2.



Η γωνία δ είναι ίση με:

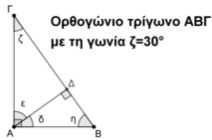
a) 30°

b) 60°

c) 50°

d) 70°

3.



Η γωνία ε είναι ίση με:

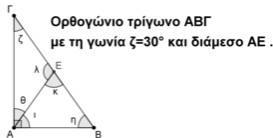
a) 30°

b) 60°

c) 50°

d) 70°

4.



Η γωνία θ είναι ίση με:

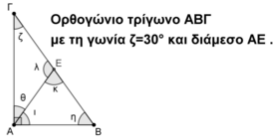
a) 30°

b) 60°

c) 50°

d) 70°

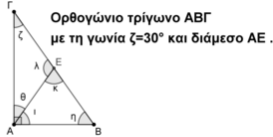
5.



Η γωνία ι είναι ίση με:

 a) 30° b) 60° c) 50° d) 70°

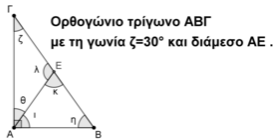
6.



Η γωνία κ είναι ίση με:

 a) 30° b) 60° c) 50° d) 70°

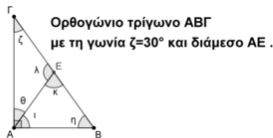
7.



Η γωνία η είναι ίση με:

 a) 30° b) 60° c) 50° d) 70°

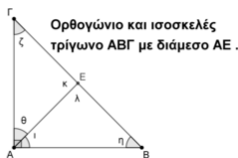
8.



Η γωνία λ είναι ίση με:

 a) 100° b) 120° c) 110° d) 70°

9.



Η γωνία θ είναι ίση με:

 a) 45° b) 30° c) 60° d) 70°

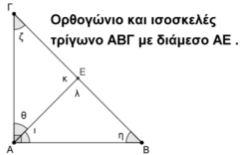
10.



Η γωνία ζ είναι ίση με:

 a) 45^0 b) 30^0 c) 60^0 d) 70^0

11.



Η γωνία λ είναι ίση με:

 a) 45^0 b) 30^0 c) 60^0 d) 90^0

Answer Key

1. b

2. a

3. b

4. a

5. b

6. b

7. b

8. b

9. a

10. a

11. d