

QUIZIZZ

Γ_ΓΥΜΝΑΣΙΟΥ_ΓΕΩΜΕΤΡΙΑ_Θ.ΘΑΛΗ 1

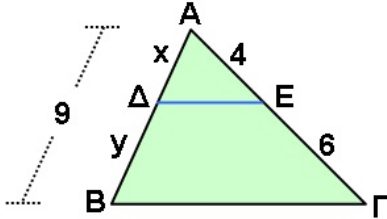
5 Questions

NAME : _____

CLASS : _____

DATE : _____

1.



Αν $DE \parallel BG$ τα τμήματα x και y είναι ίσα με:

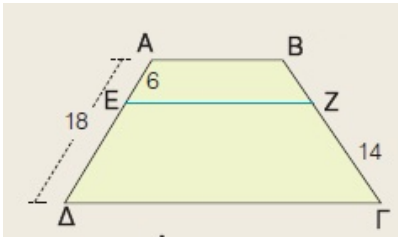
a) $x=5,4$ $y=3,6$

b) $x=3,6$ $y=5,4$

c) $x=2$ $y=3$

d) $x=4$ $y=5$

2.



Αν $AB \parallel EZ \parallel \Delta\Gamma$ το ευθύγραμμο τμήμα $B\Gamma$ είναι ίσο με :

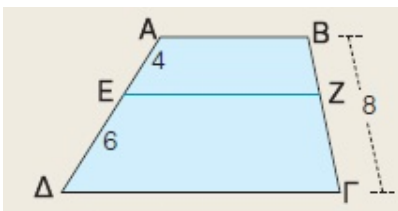
a) 21

b) 20

c) 22

d) 19

3.



Αν $AB \parallel EZ \parallel \Delta\Gamma$ τα ευθύγραμμο τμήματα BZ και $Z\Gamma$ είναι ίσα με:

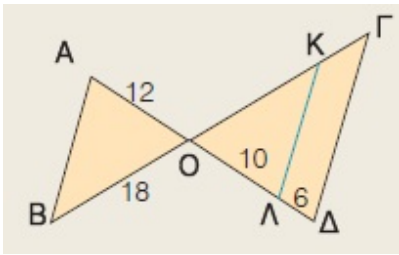
a) $BZ=5$ $Z\Gamma=7$

b) $BZ=4$ $Z\Gamma=6$

c) $BZ=4,8$ $Z\Gamma=3,2$

d) $BZ=3,2$ $Z\Gamma=4,8$

4.



Αν $AB \parallel KL \parallel \Gamma\Delta$ το ευθύγραμμο τμήμα $B\Gamma$ είναι ίσο με:

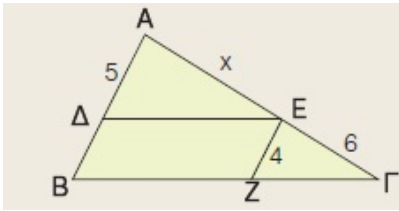
 a) 40

 b) 43

 c) 42

 d) 44

5.



Αν $\Delta E \parallel B\Gamma$ και $EZ \parallel AB$ το ευθύγραμμο τμήμα $A\Gamma$ είναι ίσο με:

 a) 9

 b) 11

 c) 13,5

 d) 14,5

Answer Key

1. b

2. a

3. d

4. c

5. c